

1 - 1

注意力の森

1 大きい順に番号を書きなさい。



2 の数はいくつですか。

3 同じものはどれとどれですか。

ア



イ



ウ



エ



と

4 左の図にぴったり重なるのはどれですか。



ア



イ



ウ



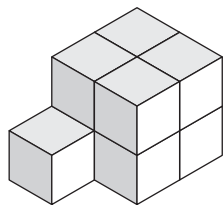
エ



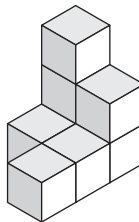
1 - 2

想像力の泉

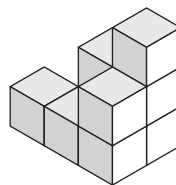
1 左と同じ数のブロックはどれですか。



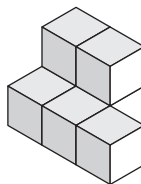
ア



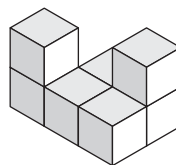
イ



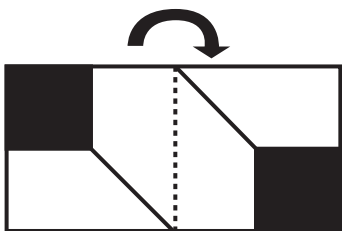
ウ




エ



2 左の紙を右の紙に折り重ねるとどれになりますか。



ア



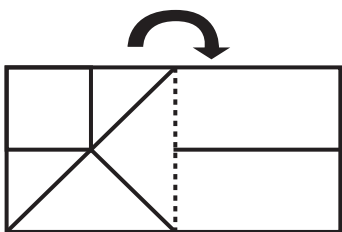
イ



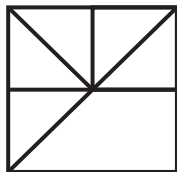
ウ



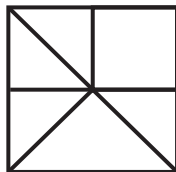
エ



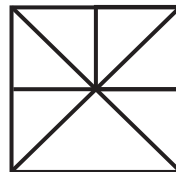
ア



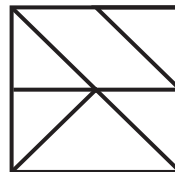
イ



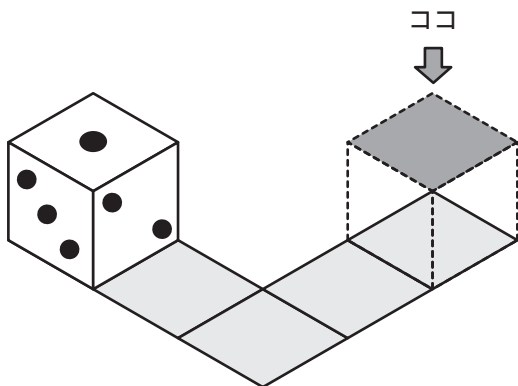
ウ



エ



3 サイコロを図のように転がしていき、最後に上の面にくる数は何ですか。



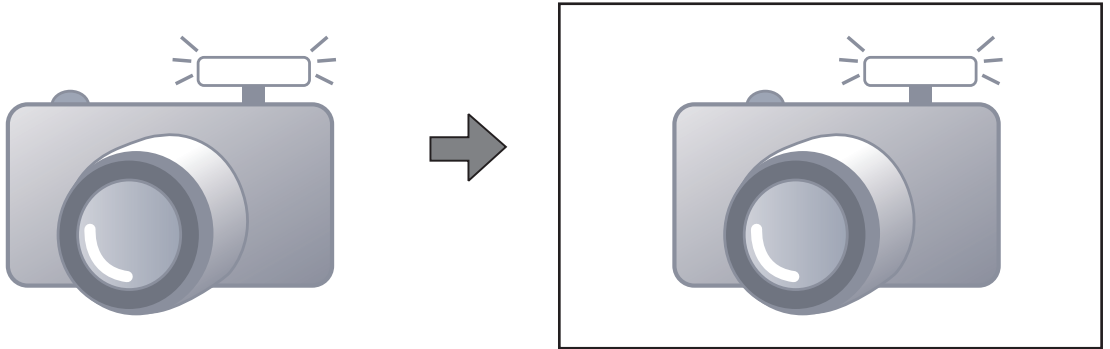
1 - 3

思考力の庭

1 ?に入る形はどれですか。

ア	イ	ウ	エ	オ	カ				

2 まちが 間違いを1つさがし、右の絵に をつけなさい。



3 真ん中のマスに漢字を入れて、上下左右に単語を4つ作りなさい。


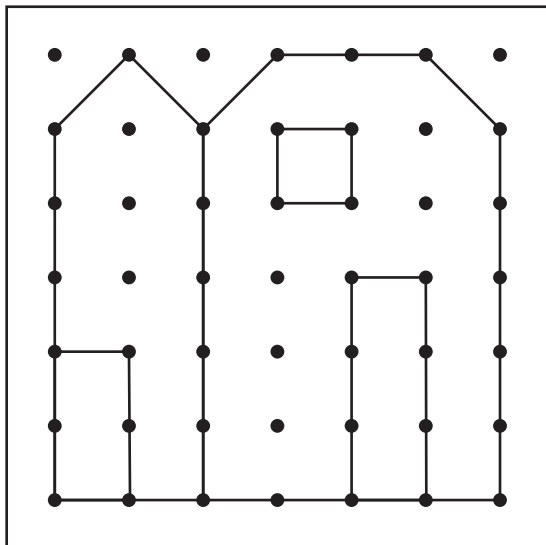
青
↓
大 → □ → 気
↓
想

祝
↓
毎 → □ → 本
↓
和

1 - 4

集中力の海

1 同じものを右に描きなさい。



2 トイレットペーパーの紙がなくなるとどうなりますか。そのときの絵を描きなさい。

